

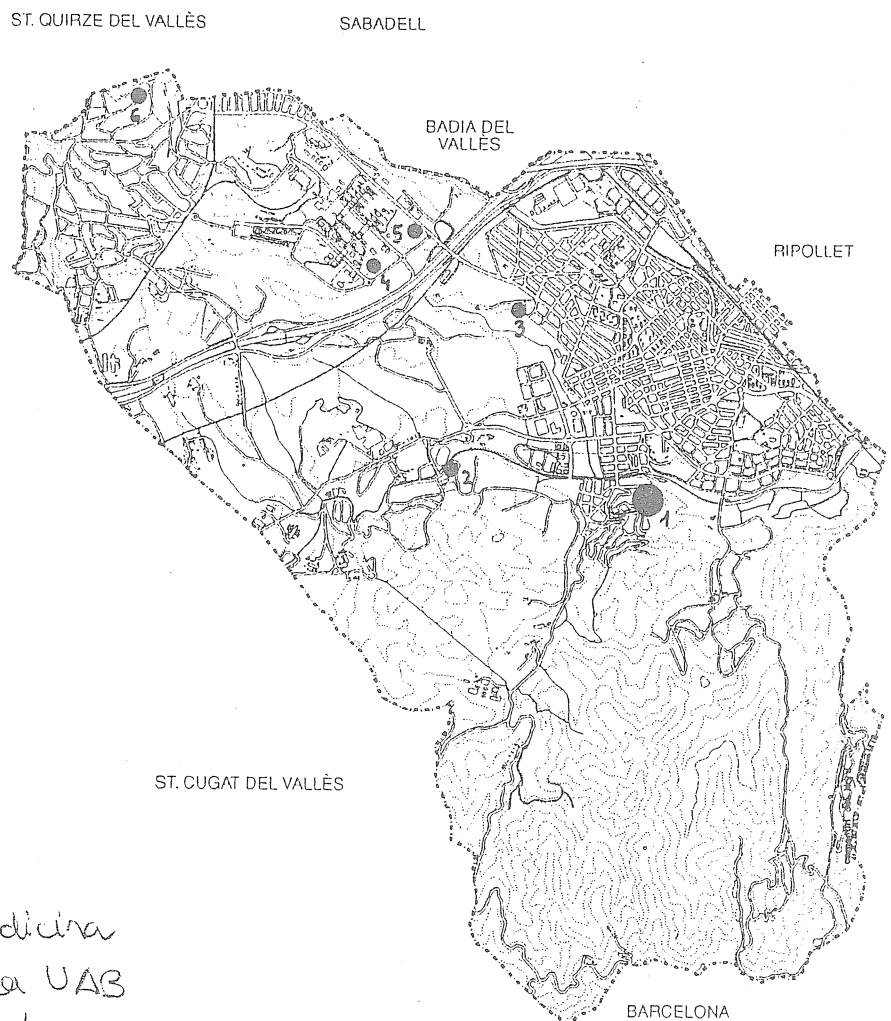
## Els ibers de Ca n'Olivé

### Treball previ

- On es troba el turó de Ca n'Olivé? **barri de Montflorit**
- Què és l'arqueologia? **una ciència**
- La civilització ibèrica és una cultura: **preromana**
- Què és el patrimoni cultural? **el llegat històric comú**

### Situació geogràfica

- Assenyala amb una fletxa el lloc on es troba el turó de Ca n'Olivé



1. Ca n'Olivé
2. Can Xercavins
3. Els Rallols
4. Facultat de Medicina
5. Poliesportiu de la UAB
6. Sitges de Bellaterra

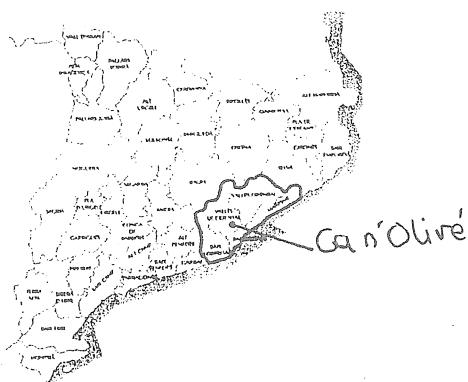
## La Cultura ibèrica

- Observa el mapa de la Península Ibèrica amb les tribus ibèriques més importants i el seu territori. Escriu el nom de les comunitats autònomes on podríem trobar restes arqueològiques ibèriques:

Catalunya, Aragó, País Valencià, Múrcia, Andalusia i Castella-la Manxa

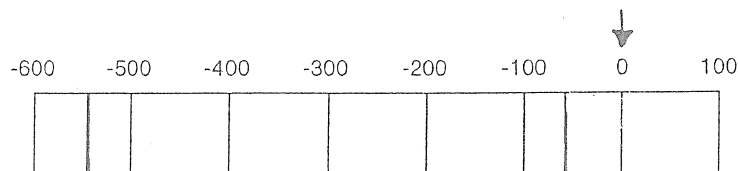
- Llegeix el text següent sobre la tribu dels laietans i pinta en el mapa comarcal de Catalunya les comarques que ocuparia la Laietània ibèrica.

- Situa en el mapa el poblat de Ca n'Olivé. Per fer-ho has de saber en quina comarca està Cerdanyola. De quina tribu eren, doncs, els seus habitants?



## Situació en el temps

- Pinta l'espai que ocupa la cultura ibèrica.
- Diferencia abans i després de Crist amb un fletxa.



## El poblat ibèric de Ca n'Olivé

- En aquest text sobre el poblat de Ca n'Olivé trobaràs un breu resum sobre aquest jaciment arqueològic, però com pots comprovar hi manquen algunes paraules. Busca-les a la sopa de lletres, escriu-les al lloc corresponent i el podràs llegir bé.

tribu, conreu, ibèrica, cabanes, habitacions, romans (per ordre d'aparició)

## Treball durant la visita

### El lloc

- Assenyala quins d'aquest elements físics pots veure des del turó la plana del Vallès, Montserrat, el Montseny, la riera de Sant Cugat, la serralada litoral, Sant Llorenç

- Observa l'entorn i dedueix quins d'aquests elements favorables debien trobar els ibers per instal·lar-se en aquest lloc.

**Totes excepte la promitat al mar i els recursos marins**

### **El poblat**

- Torna a mirar els dibuixos i les restes arqueològiques i digues quines d'aquestes afirmacions són verdaderes (V) o falses (F) sobre el poblat.

**els desnivells del terreny es resolen amb terrasses (V)**

**es va construir de forma planificada (V)**

### **El camp de sitges**

- Ompliu els buits que falten triant entre les dues opcions.

**exterior, grans, estreta, cereals, grecs, romans**

### **El fossat**

- Com veieu els arqueòlegs encara no saben perquè servia. Escull una de les següents possibilitats i pren les notes que et calguin perquè hauràs de justificar la teva hipòtesi quan tornis al centre.

**defensiva, cisterna, sortida aigües pluvials**

### **El carrer**

- Malgrat les diferències creus que fa la mateixa funció?

**SI, és un espai de circulació i ordenació urbana.**

### **Els habitatges ibèrics**

- encercla el tipus d'habitatge a què corresponen les cases ibèriques **casa**

- Com estan fetes les parets? Encercla la resposta correcta **pedra i fang**

- Tenint en compte els materials constructius amb què feien les cases. Quins creus que devien tenir més a l'abast? Assenyala la resposta correcta i relaciona el material seleccionat amb el lloc de procedència.

**fusta**

**sorra**

**pedra**

**argila**

**aigua**

**rierencs**

**canyes**

**platja**

**bosc de Collserola**

**plana del Vallès**

**riera de Sant Cugat**

**muntanyes de Collserola**

## Treball posterior

### A l'aula

#### L'entorn natural

- Els arqueòlegs han trobat al poblat restes d'animals i trossos de fusta i llavors carbonitzades que ha estat possible identificar. Assenyala quines d'aquestes espècies encara podríem trobar actualment al nostre entorn.

fauna salvatge: senglar, colom, perdiu, garça, rossegadors, toxons, mosteles, cargols, conill i llebre.

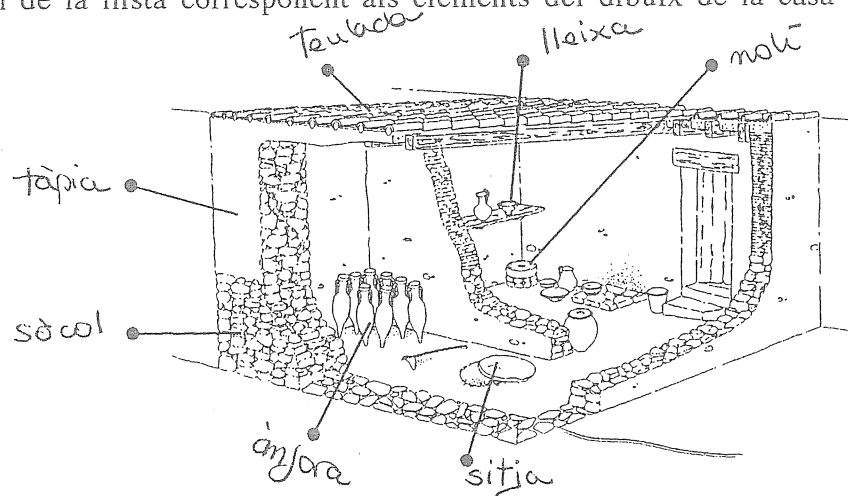
fauna domèstica: cavall, cabra, ovella, porc gallina i gos

conreus: fava

flora: alzina, roure, bruc, arboç, tamariu, pi, vern, gramínies i raïm

#### La casa

- Posa el nom de la llista corresponent als elements del dibuix de la casa ibèrica assenyalats.



#### Els ibers

- Assenyala quines d'aquestes característiques els són pròpies.

són sedentaris, viuen en cases, són agricultors i ramaders, les eines són de metall